



KÆNGURUEN 2025

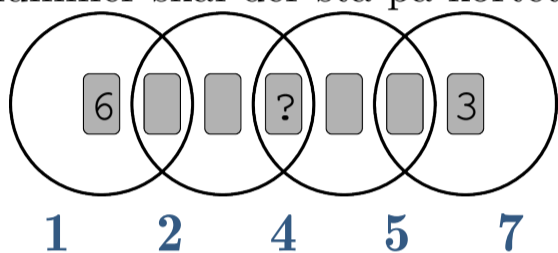
Torsdag d. 20. marts

Tilmelding åbner den 3. februar

Konkurrence for 2.-9. klassetrin

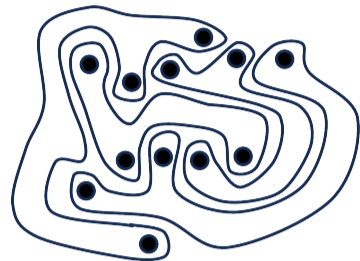
4.-5. klasse

Syv kort med nummer 1-7 er placeret i ringe som vist. Summen af kort i hver af ringene er 10. Hvilket nummer skal der stå på kortet ved ?



2.-3. klasse


Billedet viser fire mærkelige former. Hvor mange af dem har netop tre prikker indeni?



0 1 2
3 4

8.-9. klasse

Karina bagte en kage og skar den i ti lige store stykker. Hun spiste et stykke og lagde resten af stykkerne, som vist

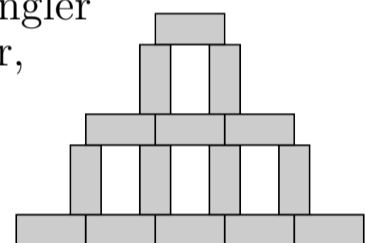


Hvad er størrelsen på vinklen mellem to stykker?

5° 4° 3° 2° 1°

6.-7. klasse

Rosa tegner flere ens rektangler for at lave den følgende figur, som vist på billedet. Bredden på figuren er 45 cm og højden er 30 cm.

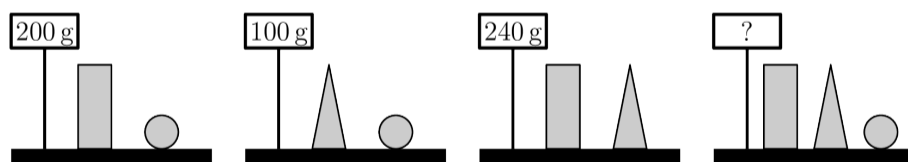


Hvad er arealet på et af rektanglerne?

24 cm² 30 cm² 36 cm²
27 cm² 33 cm²

4.-5. klasse

Lucy vejer nogle klodser.



Hvad vejer de tre klodser tilsammen?

270 g 280 g 290 g
300 g 310 g

6.-7. klasse

Der er tre ens specielle terninger på bordet.

Hvad er summen af de tal, der vender mod bordet?



26 47 40 56 43



Læs mere om KÆNGURUEN, og tilmeld klassen på www.kænguruen.dk