



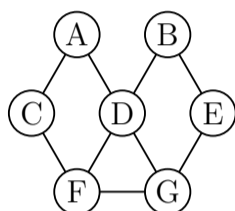
KÆNGURUEN 2024

Torsdag d. 21. marts

Konkurrence for 2.-9. klassetrin

4.-5. klasse

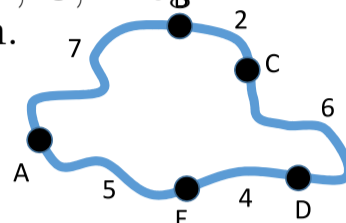
Hatice vil farve cirklerne på figuren. To cirkler med streg imellem skal have forskellig farve. Hvor mange farver skal hun mindst bruge?



- 2 3 4 5 6

2.-3. klasse

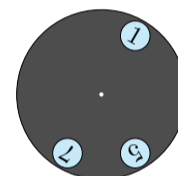

Kortet viser byerne A, B, C, D og E og afstandene mellem dem. Hvilke to byer har samme afstand mellem sig, uanset hvilken vej du vælger?



- B og E B og D C og E
A og C A og D

6.-7. klasse

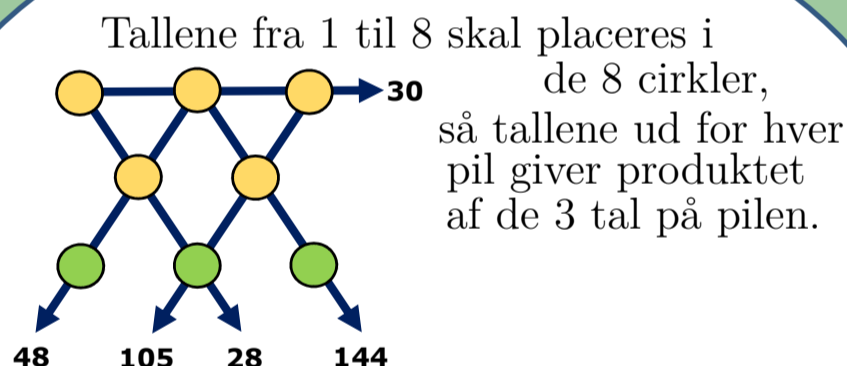
En grå cirkel med de 3 huller er placeret oven på urskiven.



Hvilke 3 tal er det muligt at se på en gang, når man drejer den grå skive?

- 2, 4 og 9 4, 6 og 12 5, 7 og 12
1, 5 og 10 3, 6 og 9

8.-9. klasse

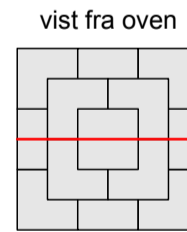
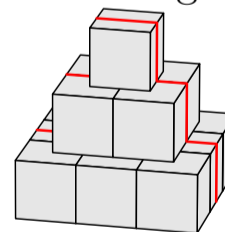


Hvad er summen af de 3 tal i de grønne cirkler?

- 11 12 15 17 19

4.-5. klasse

En pyramide er bygget af kuber med sidelængde 10 cm. En myre kravler over pyramiden langs den røde linje. Hvor langt kravler den?

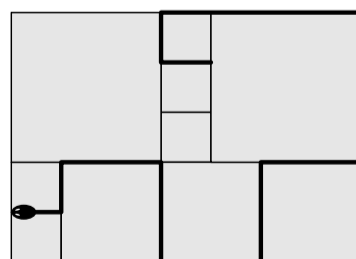


- 30 cm 60 cm 70 cm
80 cm 90 cm

6.-7. klasse

Harry har en gårdhave med kvadratiske fliser.

Hvor lang er slangen i Harrys gårdhave?



- 380 cm 400 cm 420 cm
440 cm 1680 cm



Læs mere om KÆNGURUEN, og tilmeld klassen på www.kænguruen.dk