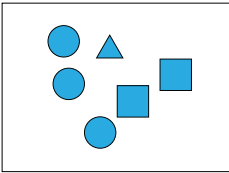
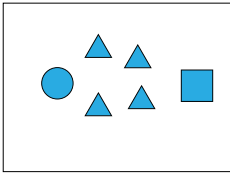
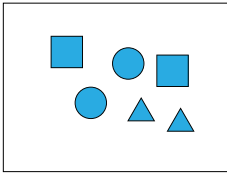
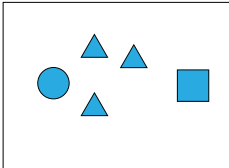
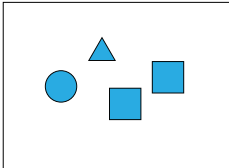


1

Post 1

På hvilket billede er der flest trekanter?

A  B  C 

D  E 








2

Post 2

Hvilket stykke af kortet mangler?



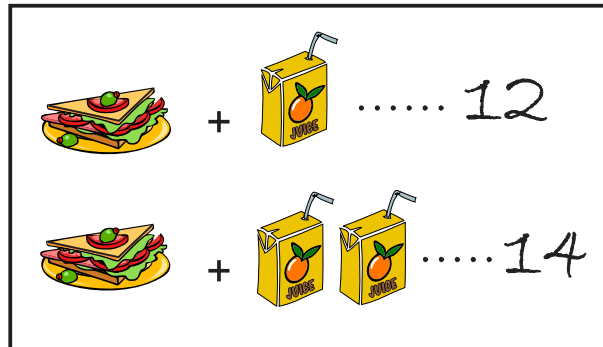
A  B  C  D  E 



3

Post 3

Hvad koster en juice?



A 1

B 2

C 3

D 4

E 5

KÆNGURUEN


Copyright © Kænguruen 2022



4

Post 4

Hvor mange felter er der spildt blæk på?



A 16

B 17

C 18

D 19

E 20

KÆNGURUEN








Copyright © Kænguruen 2022



5

Post 5

Der skal være to mønter i hver række og hver søjle.

			B
A		C	
		D	
E			

Hvor skal Alma lægge den sidste mønt?

A A

B B

C C

D D

E E

KÆNGURUEN

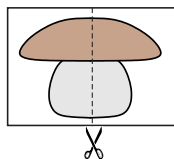
Copyright © Kænguruen 2022



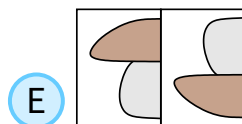
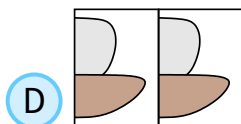
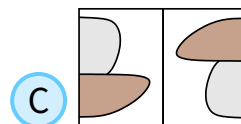
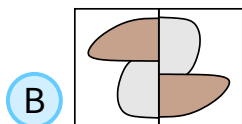
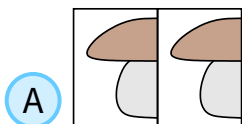
6

Post 6

Ask klipper billedet i to dele.



Hvilket billede viser de to dele sat sammen på en ny måde?



KÆNGURUEN


Copyright © Kænguruen 2022








7

Post 7

Peter samler de fire brikker.



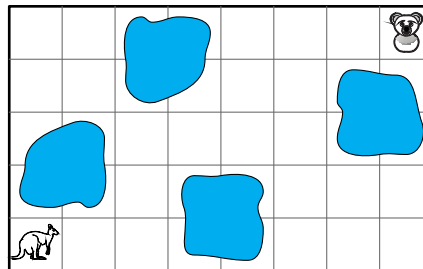
Hvilket billede får han?

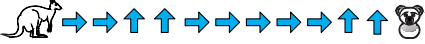


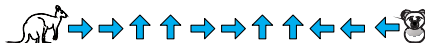

- A

- B

- C

- D

- E




8

Post 8



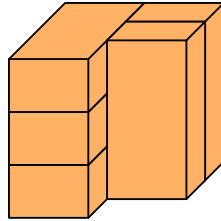
- A

- B

- C

- D

- E




9

Post 9

Hvor mange af de 5 mursten rører præcis 3 andre mursten?



A 1

B 2

C 3

D 4

E 5

KÆNGURUEN

Copyright © Kænguruen 2022

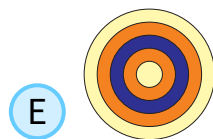

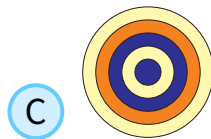
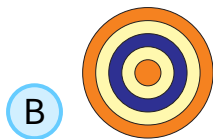
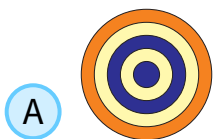
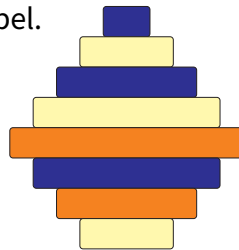


10

Post 10

Rikke har lagt nogle skiver i en stabel.

Hvordan ser den ud fra oven?



KÆNGURUEN

Copyright © Kænguruen 2022

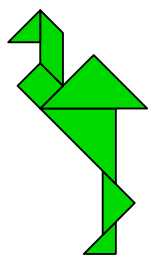
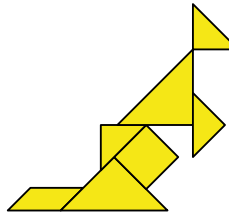
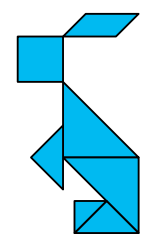


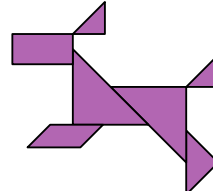


11

Post 11

På et af billederne er der en figur, der ikke er med i de andre billeder.

Hvilket billede?

A  B  C 

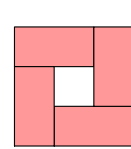
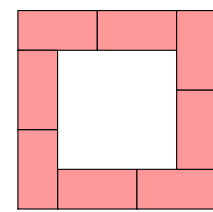
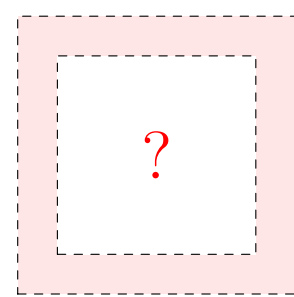
D  E  

KÆNGURUEN Copyright © Kænguruen 2022

12

Post 12

Hvor mange klodser skal bruges til det store kvadrat?

A 10 B 11 C 12 D 14 E 16



13

Post 13

Karen har skrevet et hemmeligt tal.
Hvert symbol svarer til et tal.
To forskellige symboler er to forskellige tal.



Hvilket af følgende tal kan være Karens hemmelige tal?

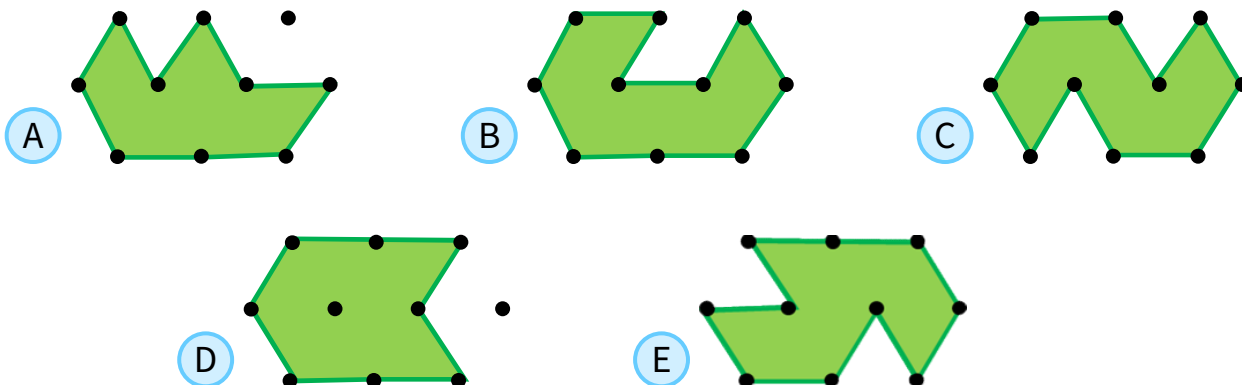
- (A) 34423
- (B) 34526
- (C) 34426
- (D) 34424
- (E) 32446



14

Post 14

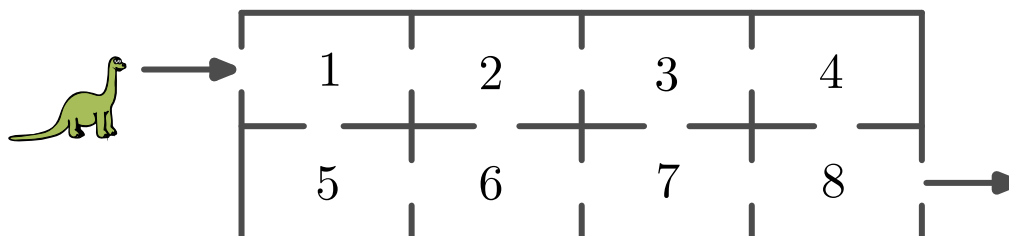
Hvilken figur er mindst?



15

Post 15

Dino går gennem huset, og hun besøger hvert rum højst en gang.



Hun lægger alle de tal sammen, som hun går forbi.

Hvad er det største resultat, hun kan få?

A 27

B 29

C 32

D 34

E 36

KÆNGURUEN

Copyright © Kænguruen 2022

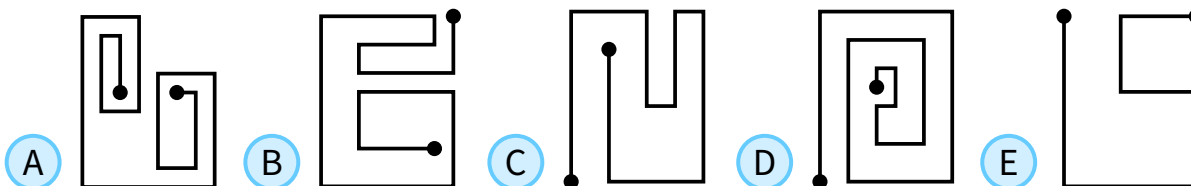


16

Post 16

Kajas bil kan kun dreje til venstre.

Hvilken af disse ruter kan Kaja køre?



KÆNGURUEN

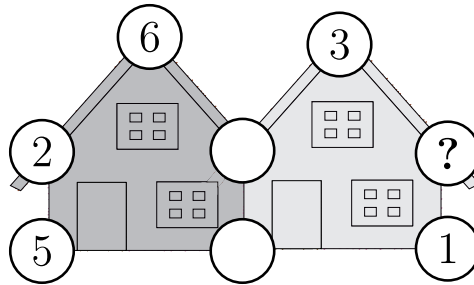
Copyright © Kænguruen 2022



17

Post 17

Summen af de 5 tal i hvert hus er 20.



Hvilket tal skal stå ved spørgsmålstegnet?

A 3

B 4

C 7

D 9

E 14

KÆNGURUEN


Copyright © Kænguruen 2022



18

Post 18

I hvert træk må du bytte om på to kort.



Hvor mange træk skal du mindst bruge for at få 12345?

A 1

B 2

C 3

D 4

E 5

KÆNGURUEN

Copyright © Kænguruen 2022





KÆNGURUEN 2022

Postløb

Svarark

Navn og klasse

	A	B	C	D	E
Opgave 1					
Opgave 2					
Opgave 3					
Opgave 4					
Opgave 5					
Opgave 6					
Opgave 7					
Opgave 8					
Opgave 9					
Opgave 10					
Opgave 11					
Opgave 12					
Opgave 13					
Opgave 14					
Opgave 15					
Opgave 16					
Opgave 17					
Opgave 18					

