



KÆNGURUEN 2021

Torsdag d. 18. marts


Konkurrence for 2.-7. klassesetrin

4.-5. klasse

Georg klistrer disse 6 klistermærker på en terning:



Billedet viser terningen fra to forskellige vinkler.



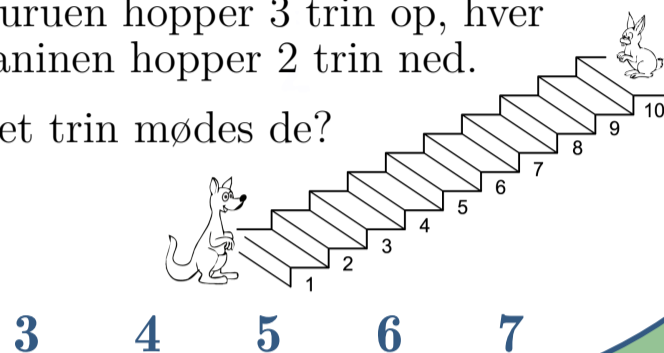
Hvilket klistermærke sidder modsat anden?



2.-3. klasse

Kænguruen hopper 3 trin op, hver gang kaninen hopper 2 trin ned.

På hvilket trin mødes de?

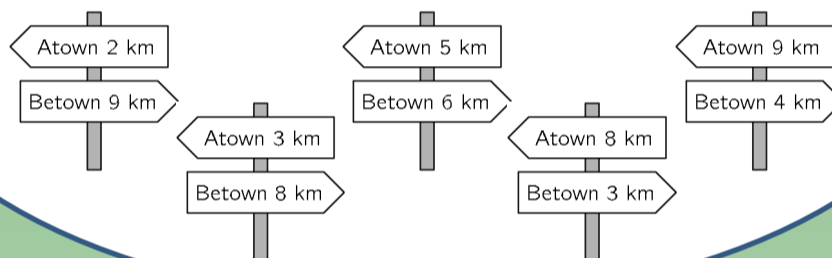


3 4 5 6 7

6.-7. klasse

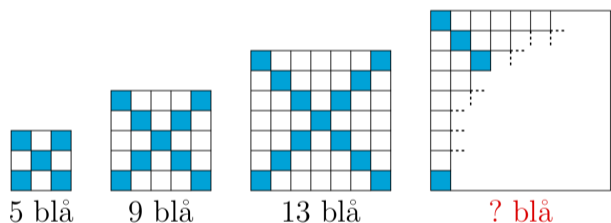
Når Amira går fra A-by til B-by, kommer hun forbi disse 5 skilte.

Et af dem passer ikke. Hvilket?



2.-3. klasse

Det største kvadrat er farvet med et blå kryds ligesom de mindre kvadrater.

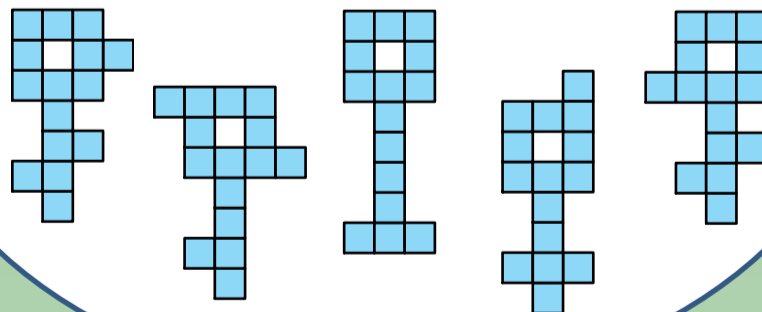


Hvor mange små kvadrater er farvet blå i det største kvadrat?

15 16 17 18 19

4.-5. klasse

Hvilken nøgle er det **ikke** muligt at skære ud i tre forskellige dele, som alle har forskellig form, der hver består af 5 farvede tern?



6.-7. klasse

En elver og en trold mødes. Trolden lyver altid, og elveren taler altid sandt.


De siger begge samme sætning. Hvilken?

A »Du siger altid sandheden.« **B** »Jeg lyver altid.«

C »Jeg siger altid sandheden.«

D »Vi taler begge altid sandt.«

E »Kun én af os taler sandt.«



Læs mere om KÆNGURUEN, og tilmeld klassen på www.kænguruen.dk