



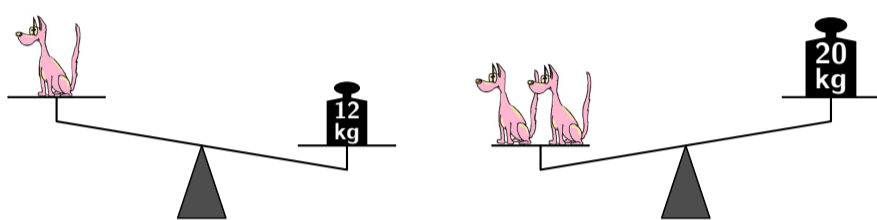
KÆNGURUEN 2020

Torsdag d. 19. marts

Konkurrence for 2.-7. klassetrin

4.-5. klasse

Hundens vægt er et helt tal.

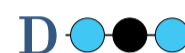
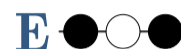
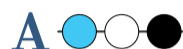
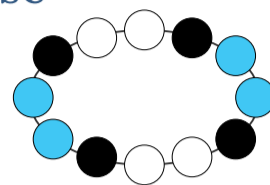


Hvor meget vejer hunden?

8 9 10 11 12

2.-3. klasse

Hvilken figur viser en del af denne halskæde?



6.-7. klasse

Tre ringe er kædet sammen som vist:

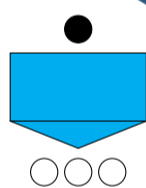


Hvilket billede viser ringene kædet sammen på samme måde?



2.-3. klasse

Amalias maskine forvandler 1 sort mønt til 3 hvide mønter:



Amalia har 3 sorte mønter og 1 hvid mønt:

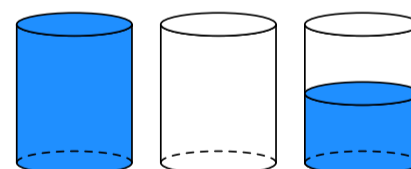


Hvor mange hvide mønter kan hun højst få?

7 8 9 10 11

4.-5. klasse

Et fyldt glas vejer 400 gram
Et tomt glas vejer 100 gram.



400 g

100 g

?

Hvor mange gram vejer et halvt fyldt glas?

150

200

225


250

300

6.-7. klasse

Fem lige store kvadrater er inddelt i mindre kvadrater.

Hvilket kvadrat har det største sorte areal?



Læs mere om KÆNGURUEN, og tilmeld klassen på www.kænguruen.dk