



KÆNGURUEN 2018

Torsdag d. 15. marts

Konkurrence for 2.-7. klassesetrin

4.-5. klasse

I tabellen kan man se summerne af tallene uden for tabellen.

	11	7	2
6	17	13	8
		?	11


Hvilket tal står der under blækklaten ved spørgsmålstegnet?

10 12 13 15 16

2.-3. klasse

Snoren klippes over som vist.

Hvor mange stykker snor bliver der?

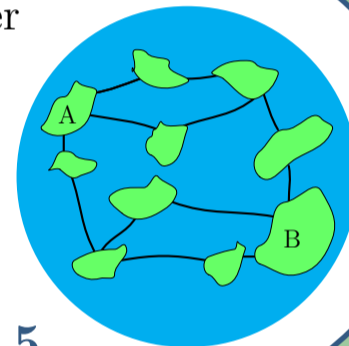


5 6 7 8 9

6.-7. klasse

På en planet er der 10 øer og 12 broer.

Hvad er det mindste antal broer, man skal lukke, hvis det skal være umuligt at komme fra A til B?



1 2 3 4 5

2.-3. klasse

På figuren ses en kæde med 4 perler.

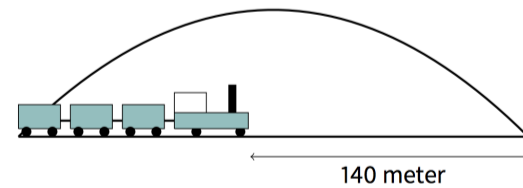
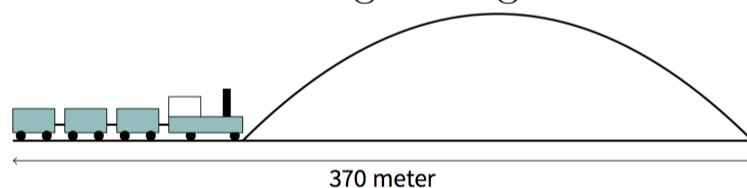


Hvilken kæde er den samme som på figuren?



4.-5. klasse

Hvor langt er toget?

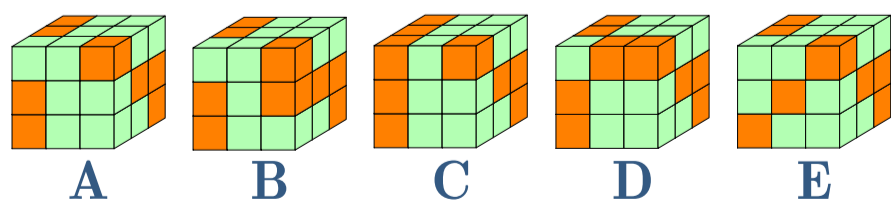


110 m 115 m 120 m
125 m 130 m

6.-7. klasse

En stang består af 2 grønne kuber og 1 orange kube limet sammen:

Hvilken figur kan man bygge af 9 stænger?



Læs mere om KÆNGURUEN, og tilmeld klassen på www.kænguruen.dk